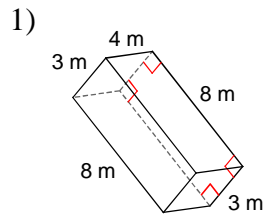


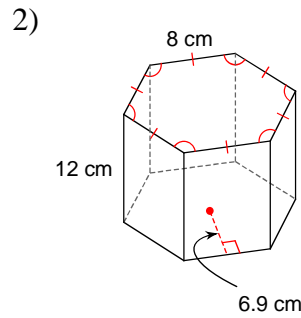


OBJEM A POVRCH HRANOLA - B

Vypo ítaj objem hranola!

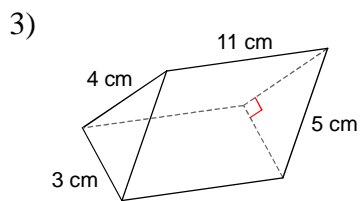


- A) 64 m^3 B) 94 m^3
 C) 99 m^3 D) 96 m^3

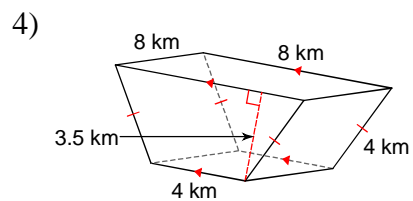


- A) 331.2 cm^3 B) 2938.3 cm^3
 C) 2718.6 cm^3 D) 1987.2 cm^3

Vypo ítaj obsah pláš a hranola!

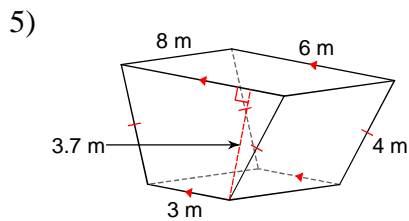


- A) 132 cm^2 B) 154 cm^2
 C) 194 cm^2 D) 121 cm^2

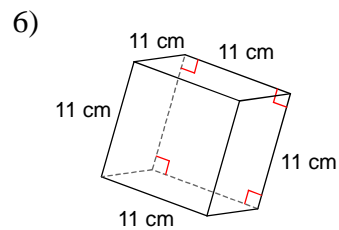


- A) 160 km^2 B) 85 km^2
 C) 195 km^2 D) 235 km^2

Vypo ítaj povrch hranola!



- A) 169.3 m^2 B) 157.5 m^2
 C) 244 m^2 D) 152.65 m^2



- A) 952 cm^2 B) 726 cm^2
 C) 605 cm^2 D) 620 cm^2

VÝSLEDKY - OBJEM A POVRCH HRANOLA - B



1) D
5) A

2) D
6) B

3) A

4) A